

درس یک

پاسخ درست را مشخص کنید.

۱- مهم ترین راه ارتباط انسان ها با یکدیگر کدام مورد است؟

۱- خوب گوش کردن

۲- خوب صحبت کردن

۳- گفت و گو

۴- ابراز احساسات

۲- در موقعیت زیر، کدام اصل گفت و گو رعایت نشده است؟

مهدی مشغول انجام دادن تکالیفش است. اما خواهرش ماجرای بازی خود را برای او تعریف می کند.

۱- دقت و توجه به سخنان

۲- قطع نکردن حرف گوینده

۳- حفظ حریم شخصی

۴- انتخاب زمان مناسب گفت و گو

۳- کدام مورد مربوط به صحبت کردن با دیگران در یک گفت و گوی مناسب می باشد؟

۱- توجه به سخنان فرد مقابل

۲- نگاه کردن به شنونده

۳- قطع نکردن کلام گوینده

۴- تکان دادن سر

۴- استفاده از کلمات مؤدبانه مربوط به کدام قسمت گفت و گو می باشد؟

۱- صحبت کردن با دیگران

۲- گوش دادن به حرف دیگران

۳- احترام به حریم شخصی دیگران

۴- بیان افکار و نظرات

۵- کدام مورد در یک ارتباط خوب مانند صحبت کردن و گوش دادن اهمیت دارد؟

۱- حالت های چهره

۲- حرکات

۳- رفتارها

۴- همه ی موارد

جاهای خالی را با کلمات مناسب کامل کنید.

۱- وقتی ما با دیگران ارتباط برقرار می کنیم، ، و نظرات خود را

درباره ی یک موضوع با آن ها در میان می گذاریم.

۲- اگر افراد دوست نداشته باشند درباره ی مسائل خصوصی شان توضیح بدهند، ما حق نداریم

..... کنیم و وارد آن ها شویم.

۳- حریم شخصی هر فرد محدوده ای است که هیچ کس نباید بدون و او

وارد آن شود.

۴- در گفت و گو با بزرگ ترها، باید به جای واژه ی «تو» از استفاده کنیم.

عبارت های درست و نادرست را مشخص کنید.

۱- همه ی ما انسان ها زمانی که متولد می شویم، با کسی ارتباط نداریم.

۲- هر گفت و گو دو طرف دارد.

۳- یکی از قسمت های مهم گفت و گو، گوش دادن است.

۴- گاهی با تکان دادن سر یا سؤال کردن، می توانیم شنونده را تشویق کنیم که به صحبت خود ادامه

دهد.

به سؤالات زیر با دقت و کامل پاسخ دهید.

۱- اصطلاحات و مفاهیم زیر را تعریف کنید.

۱- گوینده:

۲- شنونده:

۳- حریم شخصی:

۴- ارتباط غیرکلامی:

۲- ما در هنگام نوزادی و کودکی با چه کسانی ارتباط داریم؟

۳- هنگامی که وارد مدرسه می شویم، با چه کسانی ارتباط برقرار می کنیم؟

۴- برای ارتباط با دیگران به چه مواردی باید توجه کرد؟

۵- وقتی کسی با ما صحبت می کند، لازم است به چه نکاتی توجه داشته باشیم؟ (۴ مورد)

۶- در هنگام صحبت کردن با دیگران، لازم است به چه نکاتی توجه داشته باشیم؟ (۵ مورد)

۷- چرا ارتباط با پدر و مادر برای ما اهمیت دارد؟

۸- ما انسان ها برای زندگی به چه چیزهایی نیاز داریم؟

۹- اگر انسان ها با دیگران ارتباط نداشته باشند، چه می شود؟

۱۰- ما می توانیم با رفتار و حالت های صورت خود چه چیزهایی را نشان دهیم؟

درس دوم

پاسخ درست را مشخص کنید.

۱- کدام مورد از ترس های زیر، «بجا» می باشد؟

۱- ترس از تاریکی

۲- ترس از هیولا

۳- ترس از ببر

۴- ترس از آمپول

۲- کدام مورد زیر احساسی ناخوشایند است و ما آن را دوست نداریم؟

۱- جدایی از کسانی که دوستشان داریم.

۲- دیدار دوستان و آشنایان

۳- شرکت در مراسم جشن تولد

۴- بازی در زنگ تفریح

۳- کدام مورد از ترس های زیر، «نابجا» می باشد؟

۱- ترس از بلندی

۲- ترس از امتحان

۳- ترس از حیوان موذی

۴- ترس از صدای انفجار

۴- در موقع روبه رو شدن با چیزی که ما را می ترساند، از کدام مورد باید استفاده کنیم؟

۱- فریاد بزنیم.

۲- تقاشی بکشیم.

۳- از نام و یاد خدا کمک بگیریم.

۴- خودمان را سرگرم کنیم.

۵- در برخورد با کدام احساس دعا می کنیم و از خداوند بزرگ برای برطرف کردن آن کمک می گیریم؟

۱- شادی

۲- اندوه

۳- ترس

۴- وحشت

جاهای خالی را با کلمات مناسب کامل کنید.

۱- همه ی ما در طول روز در موقعیت های مختلف گوناگونی داریم.

۲- برخی از احساسات ما و برخی می باشند.

۳- گاهی حوادثی مانند جدایی از کسانی که آن ها را دوست داریم، بیماری یا ما را غمگین می کند.

۴- بعضی از ترس ها و نادرست اند.

۵- هیچ کس احساس را دوست ندارد اما باید توجه کنیم که آن احساسی طبیعی است.

عبارت های درست و نادرست را مشخص کنید.

۱- احساسات ناخوشایند در ما تأثیر خوبی می گذارند.

۲- همه ی انسان ها در زندگی، گاهی احساس غم می کنند.

۳- ترس های نابجا از انسان محافظت می کنند.

۴- دیدن فیلم های وحشتناک در ما ترس ایجاد می کند.

به سؤالات زیر با دقت و کامل پاسخ دهید.

۱- اصطلاحات زیر را تعریف کنید.

۱- احساس شادی:

۲- ترس بجا:

۲- سه نمونه از احساسات انسان ها را نام ببرید.

۳- احساسات خوشایند و ناخوشایند چه تأثیری در ما دارند؟

- ۴- چهار نمونه از احساسات خوشایند را مثال بزنید.
- ۵- چهار نمونه از احساسات ناخوشایند را مثال بزنید.
- ۶- آیا کسی پیدا می شود که در زندگی خود احساس غم نکرده باشد؟ چرا؟
- ۷- ما در چه مواقعی احساس ناراحتی و اندوه می کنیم؟
- ۸- چند نمونه ترس داریم؟ نام ببرید.
- ۹- چند نمونه ترس «بجا» نام ببرید. (چهار مورد)
- ۱۰- چند نمونه ترس «نابجا» نام ببرید. (چهار مورد)
- ۱۱- چه راه هایی برای برطرف کردن احساس غم وجود دارد؟ (چهار مورد)
- ۱۲- چگونه و از چه راه هایی می توانیم با ترس های خود مقابله کنیم؟ (چهار مورد)

درس سوم

پاسخ درست را مشخص کنید.

- ۱- وقتی کسی غمگین است، کدام مورد را نمی توانیم برای او انجام بدهیم؟
 - ۱- دوستانه کنار او بنشینیم.
 - ۲- به حرف های او خوب گوش دهیم.
 - ۳- از او در مورد احساسش سؤال نکنیم.
 - ۴- به او نشان دهیم که احساسش برای ما مهم است.
- ۲- وقتی شرایط و احساسات افراد را در موقعیت های مختلف درک کنیم یعنی با آن ها کرده ایم.
 - ۱- همدردی
 - ۲- همیاری
 - ۳- همفکری
 - ۴- همدلی
- ۳- کدام مؤسسه در هنگام وقوع تصادفات رانندگی به مردم آسیب دیده کمک می کند؟
 - ۱- سازمان انتقال خون
 - ۲- جمعیت هلال احمر
 - ۳- راهنمایی و رانندگی
 - ۴- سازمان بهداشت و درمان
- ۴- افراد از چه سنی می توانند با اهدای خون به کسانی که به خون نیاز دارند، کمک کنند؟
 - ۱- ۹ سالگی
 - ۲- ۱۵ سالگی
 - ۳- ۱۸ سالگی
 - ۴- ۲۰ سالگی

جاهای خالی را با کلمات مناسب کامل کنید.

- ۱- وقتی کسی غمگین است، ما می توانیم کاری کنیم که اندوه او شود.
- ۲- همه ی افراد ممکن است در زندگی با حوادث روبه رو شوند.
- ۳- در جامعه، مؤسساتی وجود دارند که به افراد یا کسانی که با مشکلات و حوادثی روبه رو شده اند، کمک می کنند، تا بدین ترتیب، از و آن ها کاسته شود.
- ۴- سازمان انتقال خون ایران وظیفه ی گرفتن خون از و انتقال آن به را به عهده دارد.

عبارت های درست و نادرست را مشخص کنید.

- ۱- وقتی کسی ناامید است، می توانیم کاری کنیم که او احساس بهتری پیدا کند.
 - ۲- گاهی ممکن است برای اعضای خانواده یا اطرافیان ما مشکلی پیش بیاید که آن ها را شاد کند.
 - ۳- وقتی برادر کوچکم از تاریکی می ترسد و گریه می کند، من هم با گریه کردن با او همدلی می کنم.
- به سؤالات زیر با دقت و کامل پاسخ دهید.

- ۱- وقتی کسی غمگین است، چه کارهایی می توانیم برای او انجام دهیم؟ (چهار مورد)
- ۲- همدلی یعنی چه؟
- ۳- دو نمونه از مؤسسه هایی که به افراد نیازمند یا کسانی که با مشکلات و حوادث روبه رو می شوند، کمک می کنند را نام ببرید.
- ۴- جمعیت هلال احمر در چه مواقعی به مردم کمک می کند؟
- ۵- جمعیت هلال احمر به افرادی که دچار حادثه شده اند، چه چیزهایی می رساند؟
- ۶- وظیفه ی سازمان انتقال خون چیست؟

درس چهارم

پاسخ درست را مشخص کنید.

۱- اولین نکته که اعضای هر گروه باید به آن توجه کنند، چیست؟

۱- شناخت وظایف خود

۲- داشتن روابط خوب با یکدیگر

۳- رعایت نظم و مقررات

۴- مشورت و همفکری

۲- یکی از ویژگی های مهمی که اعضای هر گروه باید داشته باشند، کدام مورد است؟

۱- تقسیم کار و وظایف

۲- نظم و مقررات

۳- اعتقاد به همفکری و مشورت

۴- انجام وظایف بر حسب استعدادها

۳- کدام مورد از نتایج مشورت نیست؟

۱- حل مشکلات

۲- استفاده از فکر و تجربه ی همه

۳- اداره ی بهتر جامعه

۴- کشف استعدادها

۴- انتخاب شوراهای دانش آموزی هر سال در چه تاریخی در مدارس ایران برگزار می شود؟

۱- نیمه ی اول آذر ماه

۲- نیمه ی اول آبان ماه

۳- نیمه ی دوم آذر ماه

۴- نیمه ی دوم آبان ماه

۵- به استفاده از فکر و تجربه دیگران در کارها در کدام سوره ی قرآن اشاره شده است؟

۱- زلزال

۲- حمد

۳- شوری

۴- شعرا

جاهای خالی را با کلمات مناسب کامل کنید.

۱- اعضای یک خانواده، یک به حساب می آیند و همه برای زندگی کردن در کنار یکدیگر با آرامش و آسایش، و می کنند.

۲- اعضای یک گروه باید با هم داشته باشند.

۳- اعضای یک گروه باید به نظر یکدیگر بگذارند و تصمیم گیری ها و انجام کارها و کنند.

۴- در دین اسلام، به در کارها، سفارش شده است.

۵- اعضای یک محله در مورد مسائل محله با هم مشورت می کنند.

۶- همفکری و مشورت باعث می شود که ما بتوانیم از و دیگران استفاده کنیم.

عبارت های درست و نادرست را مشخص کنید.

۱- در شورا همه ی افراد می توانند نظر خود را بیان کنند.

۲- اعضای یک گروه برای رسیدن به هدفی مشترک با هم ارتباط برقرار می کنند.

۳- دانش آموزان مدرسه یک گروه کوچک را تشکیل می دهند.

به سؤالات زیر با دقت و کامل پاسخ دهید.

۱- اصطلاحات زیر را تعریف کنید.

۱- گروه:

۲- شورا:

۲- چند نمونه گروه نام ببرید.

۳- اعضای یک گروه در چه مواردی با هم مشورت می کنند؟

۴- همفکری و مشورت چه فایده ای دارد؟

۵- هدف از تشکیل شورای دانش آموزی چیست؟

۶- خداوند در قرآن درباره ی مشورت کردن چه فرموده است؟

۷- برای این که در گروه عضو مؤثری باشیم، چه کارهایی باید انجام دهیم؟ (چهار مورد)

درس پنجم

پاسخ درست را علامت بزنید.

۱- در حال حاضر جمعیت کشور ما چند نفر است؟

۱- کم تر از ۶۰ میلیون

۲- ۸۵ میلیون

۳- بیش از ۷۵ میلیون

۴- ۹۰ میلیون

۲- به مجموعه افرادی که در یک جا زندگی می کنند، چه می گویند؟

۱- گروه

۲- جامعه

۳- جمعیت

۴- ملت

۳- پرجمعیت ترین شهر ایران کدام است؟

۱- مشهد

۲- تهران

۳- تبریز

۴- اصفهان

۴- کدام ناحیه زیر با توجه به وسعت کمی که دارد، اما جمعیت زیادی را در خود جای داده است؟

۱- ناحیه کوهپایه ای

۲- نواحی داخلی

۳- ناحیه ی کناره ی دریای خزر

۴- ناحیه ی تهران و اطراف آن

۵- در کدام ناحیه، شهرها و روستاهای پرجمعیت زیادی به وجود آمده است؟

۱- کوهپایه ای

۲- کناره ی دریای خزر

۳- ناحیه ی تهران

۴- نواحی داخلی

۶- کدام مورد از عوامل افزایش جمعیت می باشد؟

۱- مهاجرت

۲- تولد بیش تر از مرگ

۳- مرگ کم تر از تولد

۴- همه ی موارد

۷- کدام مورد از دلایل جمعیت بسیار کم در نواحی داخلی نیست؟

۱- آب و هوای گرم و خشک

۲- خاک نامناسب

۳- زمین های شور

۴- بارندگی کم

۸- کدام مورد از عوامل دورکننده ی جمعیت نمی باشد؟

۱- کمبود درآمد

۲- خشکسالی

۳- دانشگاه

۴- جنگ

جاهای خالی را با کلمات مناسب کامل کنید.

۱- به مجموعه افرادی که در یک جا زندگی می کنند، می گویند.

- ۲- اگر تعداد افرادی که متولد می شوند از تعداد افرادی که می میرند، بیش تر باشد، جمعیت می یابد.
 - ۳- وقتی تعداد یک کشور زیاد باشد، نیروی بیش تری برای کار فراهم می شود.
 - ۴- اگر جمعیت زیاد باشد، نیروی زیادی برای از کشورمان داریم.
 - ۵- ناحیه ی و پرجمعیت ترین جای کشور هستند.
 - ۶- نواحی ایران به دلیل بارندگی کم، زمین های شور و خاک نامناسب، بسیار کم جمعیت یا خالی از جمعیت است.
 - ۷- یکی از دلایل افزایش جمعیت در یک ناحیه، مردم از نواحی دیگر به آنجاست.
 - ۸- مهاجرت یعنی اینکه مردم برای یا از جایی به جای دیگر بروند.
- عبارت های درست و نادرست را مشخص کنید.

- ۱- جمعیت ایران در سال ۱۳۷۵، ۶۰ میلیون نفر بوده است.
- ۲- جمعیت ایران در همه جای آن به طور یکسان پراکنده شده است.
- ۳- درآمد بیش تر از عوامل دورکننده ی جمعیت است.
- ۴- جوانان با تحصیل و تلاش به دفاع از کشور خود کمک می کنند.
- ۵- هر چه از ناحیه ی مرکزی ایران به سمت کوهپایه های البرز و زاگرس می رویم، تعداد شهرها و روستاها افزایش می یابد.

به سؤالات زیر با دقت و کامل پاسخ دهید.

- ۱- اصطلاحات روبه رو را تعریف کنید. الف) جمعیت ب) مهاجرت
- ۲- چرا ناحیه ی کناره ی دریای خزر با وجود وسعت کم، جمعیت زیادی را در خود جای داه است؟
- ۳- پرجمعیت ترین و کم جمعیت ترین ناحیه ی ایران به ترتیب کدام اند؟
- ۴- چرا تهران جمعیت زیادی را به خود جذب کرده است؟
- ۵- چرا در نواحی کوهپایه ای رشته کوه های البرز و زاگرس و کوه های آذربایجان و خراسان تعداد زیادی شهر و روستای پرجمعیت به وجود آمده است؟ (سه مورد)

- ۶- دلایل بسیار کم جمعیت بودن نواحی داخلی ایران را نام ببرید. (سه مورد)
- ۷- عوامل جذب کننده ی جمعیت را نام ببرید. (پنج مورد)
- ۸- عوامل دورکننده ی جمعیت را نام ببرید. (چهار مورد)
- ۹- دو دلیل افزایش جمعیت را نام ببرید.
- ۱۰- شهرها و روستاهای پرجمعیت ایران در نواحی کوهپایه ای در کدام رشته کوه ها قرار دارند؟
- ۱۱- افزایش جمعیت در کشور ما چه خوبی هایی دارد؟ (سه مورد)
- ۱۲- هر چه از ناحیه ی مرکزی ایران به سمت کوهپایه های البرز و زاگرس پیش برویم، تعداد شهرها و روستاها چه تغییری می کند؟ چرا؟

درس ششم

پاسخ درست را علامت بزنید.

۱- انسان آب شیرین مورد نیاز خود را از کدام منابع به دست می آورد؟

۱- قنات

۲- برف و باران

۳- چاه

۴- دریاها

۲- اولین کسانی که با کندن قنات از آب های زیرزمینی استفاده کردند، چه کسانی بودند؟

۱- مصریان

۲- چینی ها

۳- ایرانیان

۴- اروپاییان

۳- میزان تبخیر و آلودگی آب در کدام یک از موارد زیر بسیار کم است؟

۱- قنات

۲- چاه

۳- رود

۴- جویبار

۴- کدام رود زیر به خلیج فارس می ریزد؟

۱- تلخه رود

۲- اروندرود

۳- سفید رود

۴- جاجرود

۵- رود کارون از کدام شهر می گذرد و به کدام رود می ریزد؟

۱- اهواز - اروندرود

۲- اصفهان - زرینه رود

۳- اهواز - تلخه رود

۴- اصفهان - اروندرود

۶- از به هم پیوستن رود قزل اوزن و شاهرود، کدام رود به وجود می آید؟

۱- زاینده رود

۲- رود کرج

۳- سیمینه رود

۴- سفید رود

۷- کدام رود زیر به دریای خزر، می ریزد؟

۱- رود چالوس

۲- رود گرگان

۳- سیمینه رود

۴- سفید رود

۸- میزان متوسط بارندگی سالانه در ایران چند میلی متر است؟

۱- بیش تر از ۲۵۰

۲- کم تر از ۲۵۰

۳- بیش تر از ۳۵۰

۴- کم تر از ۳۵۰

جاهای خالی را با کلمات مناسب کامل کنید.

۱- انسان مورد نیاز خود را از منابع برف و باران به دست می آورد.

۲- بخشی از آب حاصل از برف و باران روی زمین جاری می شود و را به وجود می آورد.

- ۳- مردم برای استفاده از آب های زیرزمینی یا حفر می کنند.
- ۴- بخشی از آب حاصل از برف و باران به داخل زمین فرو می رود و را تشکیل می دهد.
- ۵- ایرانیان اولین کسانی بودند که با کندن از آب های زیرزمینی استفاده کردند.
- ۶- رود زاینده رود از شهر عبور می کند.
- ۷- بیش تر رودهای ایران و هستند.
- ۸- امروزه با استفاده از آبیاری از به هدر رفتن آب در مزارع و باغ ها جلوگیری می شود.
- ۹- از انرژی ذخیره شده ی آب که در پشت سد جمع می شود، به کمک برق تولید می کنند.
- ۱۰- رودها زیستگاه بسیاری از ماهی ها، و هستند.
- ۱۱- آب مایه ی است و کمبود آن خطر بزرگی است.

عبارت های درست و نادرست را مشخص کنید.

- ۱- ریختن زباله های خانگی و صنعتی باعث آلودگی آب ها می شوند.
- ۲- آب های زیرزمینی مهم ترین منبع آب شیرین هستند.
- ۳- کشور ما از کشورهای پرآب دنیا است.
- ۴- دریاچه ی جازموریان در جنوب شرقی ایران قرار دارد.
- ۵- آلوده کردن آب و مصرف نادرست آن باعث به هدر رفتن آب می شود.
- ۶- یکی از راه های ذخیره ی آب، ساختن سد روی رودهاست.

به سؤالات زیر با دقت و کامل پاسخ دهید.

۱- اصطلاحات زیر را تعریف کنید.

۱- جویبار:

۲- رود:

۳- قنات:

۴- چشمه:

- ۲- چرا آب دریاها و اقیانوس ه برای آشامیدن، شست و شو و کشاورزی مناسب نیست؟
- ۳- منابع برف و باران در زمین به چند بخش تقسیم می شوند؟ نام ببرید و توضیح دهید.
- ۴- چرا میزان تبخیر و آلودگی آب قنات بسیار مهم است؟
- ۵- بیش تر رودهای ایران از کدام کوه ها سرچشمه می گیرند؟
- ۶- رودهای ایران به کجا می ریزند؟
- ۷- چرا بیش تر رودهای ایران فصلی و موقتی هستند؟
- ۸- ویژگی رودهای فصلی و موقتی چیست؟
- ۹- رودها چه نقشی در زندگی ما دارند؟ (دو مورد)
- ۱۰- چرا آب بعضی از رودهای کشور ما برای کشاورزی مناسب نمی باشند؟
- ۱۱- چرا نواحی کوهستانی برای ما اهمیت دارند؟
- ۱۲- وسعت کدام ناحیه ی آب و هوایی ایران بیش تر است؟ از این موضوع چه نتیجه ای می گیرید؟
- ۱۳- روستانشینان و شهرنشینان برای چه کارهایی از آب رودها استفاده می کنند؟
- ۱۴- چه عواملی موجب آلودگی آب ها می شود؟ (سه مورد)
- ۱۵- کدام رودها به دریاچه ی ارومیه می ریزند؟
- ۱۶- سه رودی را که به دریای خزر می ریزند، نام ببرید.
- ۱۷- چه عواملی باعث به هدر رفتن آب می شود؟
- ۱۸- نحوه ی تولید برق را توضیح دهید.

درس هفتم

پاسخ درست را علامت بزیند.

۱- کدام مورد کالاهایی را که تولید می کنند، مردم آن ها را نمی خردند و به طور مستقیم از آن ها

استفاده نمی کنند؟

۱- یخچال سازی

۲- ذوب آهن

۳- کیف و کفش

۴- کاغذسازی

۲- کارخانه ها برای تولید کالا به کدام مورد نیاز دارند؟

۱- مواد اولیه

۲- سرمایه

۳- ماشین آلات و ابزار

۴- همه ی موارد

۳- کدام مورد در گروه صنایع مصرفی قرار می گیرد؟

۱- اتوموبیل سازی

۲- فولاد

۳- ماشین سازی

۴- پتروشیمی

۴- اولین کارخانه ی ذوب آهن ایران، در نزدیکی کدام شهر است؟

۱- تهران

۲- تبریز

۳- اصفهان

۴- یزد

۵- کدام استان بیشترین صنایع مصرفی را در خود جای داده است؟

۱- اصفهان

۲- بوشهر

۳- مشهد

۴- تهران

۶- از تولیدات کدام صنعت مادر برای تهیه ی رنگ، چسب و مواد شوینده استفاده می شود؟

۱- ذوب آهن

۲- پتروشیمی

۳- فولاد

۴- ماشین سازی

۷- کدام مورد جزو صنایع مصرفی نمی باشد؟

۱- قند و شکر

۲- فرش

۳- پارچه

۴- فولاد

۸- در کدام استان، صنعت ذوب آهن و تولید فولاد وجود دارد؟

۱- فارس

۲- کرمانشاه

۳- مرکزی

۴- خوزستان

۹- در کدام شهرها صنعت ماشین سازی و ابزار وجود دارد؟

۱- اصفهان و یزد

۲- تبریز و اراک

۳- اراک و اصفهان

۴- تبریز و یزد

۱۰- در کدام استان صنعت پتروشیمی وجود ندارد؟

۱- خراسان رضوی

۲- بوشهر

۳- خراسان شمالی

۴- همدان

۱۱- سنگ آهن مورد نیاز کارخانه ی ذوب آهن اصفهان از معادن آهن کدام استان تأمین می شود؟

۱- یزد

۲- خوزستان

۳- تهران

۴- کردستان

۱۲- بزرگ ترین معدن مس دنیا در کدام استان قرار دارد؟

۱- کرمانشاه

۲- اراک

۳- کرمان

۴- اصفهان

جاهای خالی را با کلمات مناسب کامل کنید.

۱- همه ی کالاهایی که از آن ها استفاده می کنیم از به دست می آیند.

۲- موادّ اولیه کارخانه ها از به دست می آیند.

- ۳- برای تهیه نخ از منابع طبیعی و استفاده می کنند.
- ۴- کارخانه ی ذوب آهن تولید می کند.
- ۵- صنایع و از صنایع مادر هستند.
- ۶- مهم ترین استان صنعتی ایران، استان است.
- ۷- کارخانه های پتروشیمی و را به مواد شیمیایی تبدیل می کنند.
- ۸- صنایع مادر، مواد اولیه برای تولید کالا را از تأمین می کنند.
- ۹- کشور پهناور ما ایران فراوانی دارد.
- ۱۰- معدن سنگ آهن بافق در استان قرار دارد.

عبارت های درست و نادرست را مشخص کنید.

- ۱- سنگ های معدنی، نفت و خاک از منابع طبیعی هستند.
- ۲- تولیدات صنایع مادر به طور مستقیم به دست مردم می رسند.
- ۳- در گذشته های دور، اغلب مردم نیازهای خود را در خانه یا کارگاه های کوچک تولید می کردند.
- ۴- نیروی کار و سرمایه از جمله نیازهای کارخانه ها برای تولید کالا می باشند.
- ۵- مواد اولیه کارخانه های ماشین سازی معمولاً از نفت و گاز تهیه می شوند.

به سوالات زیر با دقت و کامل پاسخ دهید.

۱- اصطلاحات زیر را تعریف کنید.

۱- صنعت:

۲- صنایع مادر:

۳- صنایع مصرفی:

۳- اولین کارخانه ی ذوب آهن ایران، در نزدیکی کدام شهر ساخته شده و سنگ آهن مورد نیاز خود را از کجا تأمین می کند؟

۴- چرا صنایع ماشین سازی و ذوب آهن، در گروه صنایع مادر قرار می گیرند؟

۵- هر مورد را با خط به عبارت مربوط به خود وصل کنید.

اصفهان - خوزستان	شهرهای دارای کارخانه های ماشین سازی و ابزار
تهران - اصفهان	شهرهای دارای مجتمع پتروشیمی
بوشهر - کرمانشاه	استان های دارای فولاد
اراک - تبریز	شهرهای دارای بیش ترین صنایع مصرفی

درس هشتم

پاسخ درست را علامت بزینید.

۱- در شهرهای بزرگ کدام وسیله سرعت زیادی در جابه جایی مردم دارد؟

۱- اتوبوس

۲- قطار شهری

۳- تاکسی

۴- ون

۲- کدام مورد در رفع نیازهای ما نقش مهمی دارد؟

۱- راه ها

۲- وسایل حمل و نقل

۳- کارخانه ها

۴- بازرگانی

۳- کدام مورد از صادرات استان گیلان نیست؟

۱- زیتون

۲- چای

۳- پسته

۴- برنج

۴- به خرید و فروش کالا در داخل یک کشور یا به کشورهای دیگر چه می گویند؟

۱- صادرات

۲- بازرگانی

۳- واردات

۴- خرید و فروش

۵- استان گیلان شرایط آب و هوایی و خاک مناسب برای کشت کدام محصول را ندارد؟

- ۱- پسته
- ۲- زعفران
- ۳- خرما
- ۴- همه ی موارد

۶- در کدام مورد خطر تصادف دو خودرو از رو به رو کمتر است؟

- ۱- بزرگ راه
- ۲- اتوبان
- ۳- خیابان
- ۴- آزادراه

۷- کدام مورد از وسایل حمل و نقل راه های جاده ای نیست؟

- ۱- قطار
- ۲- کامیون
- ۳- اتوبوس
- ۴- اتوموبیل

۸- کدام مورد از واردات استان گیلان نمی باشد؟

- ۱- نفت
- ۲- اتوموبیل
- ۳- خرما
- ۴- زیتون

جاهای خالی را با کلمات مناسب کامل کنید.

- ۱- راه برای جابه جایی و از مکانی به مکان دیگر، لازم است.
- ۲- همه ی مکان ها به وسیله ی به یکدیگر مربوط می شوند.

- ۳- به وسایلی که مردم و کالاها را جابه جا می کنند، وسایل می گویند.
- ۴- امروزه، مردم در همه جا به محصولات کشاورزی، و و همچنین به یکدیگر نیاز دارند.
- ۵- استان گیلان شرایط و برای کشت خرما، پسته و زعفران را ندارد.
- ۶- کالاهایی که در داخل یک ناحیه تولید شده اند، برای فروش به جاهای دیگر فرستاده می شوند؛ به این کار می گویند.
- ۷- در راه های ، مسافران و کالاها در شهرها و روستاهای کشور جابه جا می شوند.
- ۸- بعضی از راه های جاده ای هستند؛ یعنی در آن ها، مسیر رفت و برگشت با از هم جدا شده اند.
- ۹- در آزادراه ها خطر تصادف خودروها از روبه رو است.
- ۱۰- اغلب تصادف ها در اثر رخ می دهند.
- ۱۱- رانندگی کردن با سرعت زیاد نشانه ی و نیست.
- عبارت های درست و نادرست را مشخص کنید.

- ۱- بسیاری از کالاهایی که مردم مصرف می کنند، از راه های دور و نزدیک به آن ها می رسند.
- ۲- مردم در گذشته از درشکه و گاری برای حمل و نقل استفاده می کردند.
- ۳- استفاده از اتوموبیل های شخصی در شهرها آلودگی هوای کم تری ایجاد می کند.
- ۴- بیش تر نواحی کشور ما برای کشت دو محصول برنج و چای شرایط مناسبی دارد.
- ۵- وسایل مورد نیاز ما با وسایل حمل و نقل از راه های ارتباطی به فروشگاه ها و مراکز خرید فرستاده می شوند.

به سوالات زیر با دقت و کامل پاسخ دهید.

۱- اصطلاحات زیر را تعریف کنید.

۱- وسایل حمل و نقل:

۲- بازرگانی:

۳- صادرات:

۴- واردات:

۵- آزادراه:

۲- راه ها برای چه کالاهایی لازم هستند؟

۳- امروزه برای جابه جا شدن در شهرها از چه وسایلی استفاده می کنند؟

۴- در گذشته قبل از اختراع اتوموبیل، مردم از چه وسایلی برای حمل و نقل استفاده می کردند؟

۵- کدام یک از وسایل حمل و نقل زیر برای سفرهای درون شهری مناسب ترند؟ چرا؟



۶- اگر در یک ناحیه، محصولی بیش تر از نیاز مردم تولید شود، چگونه از باقی مانده ی آن استفاده می کنند؟

۷- اگر در یک ناحیه، شرایط آب و هوایی و خاک مناسب برای کشت بعضی از محصولات وجود نداشته باشد، چه اقداماتی صورت می گیرد؟

۸- صادرات استان گیلان را نام ببرید. (سه مورد)

۹- واردات استان گیلان را نام ببرید. (چهار مورد)

۱۰- انواع راه ها را نام ببرید.

۱۱- حمل و نقل زمینی از چند طریق انجام می شود؟ نام ببرید.

۱۲- رانندگان و مسافران در سفرهای جاده ای چه نکات ایمنی را باید رعایت کنند؟ (سه مورد)

۱۳- بیش تر نواحی ایران برای کشت چه محصولاتی شرایط مناسبی ندارد؟

درس نهم

پاسخ درست را علامت بزنید.

۱- به کسی که قطار را هدایت می کند، چه می گویند؟

۱- راننده

۲- لوکوموتیوران

۳- راهبر قطار

۴- گزینه های ۲ و ۳

۲- راهبر قطار برای تعیین مسیر خود از کدام طریق با مرکز در تماس است؟

۱- تلفن همراه

۲- شبکه ی مخابرات

۳- برج مراقبت

۴- شبکه ی بی سیم

۳- حمل کالاهای سنگین با کدام مورد بسیار ارزان و مناسب است؟

۱- کامیون

۲- قطار

۳- هواپیما

۴- کشتی

۴- راه آهن سراسری ایران به کدام بندر در کناره ی دریای خزر مربوط می شود؟

۱- بندر امیرآباد

۲- بندر انزلی

۳- بندر ترکمن

۴- بندر آستارا

۵- راه آهن سراسری ایران به کدام بندرها در کناره ی خلیج فارس مربوط می شود؟

۱- بندر خرمشهر، بندر عباس، بندر امام خمینی

۲- بندر عباس، بندر بوشهر، بندر چابهار

۳- بندر امام خمینی، بندر بوشهر، بندر خرمشهر

۴- بندر بوشهر، بندر چابهار، بندر عباس

۶- سنگ آهن معدن های چادرملو و بافق با کدام وسیله به کارخانه ی ذوب آهن می رسد؟

۱- هواپیما

۲- کشتی

۳- قطار

۴- کامیون

۷- امروزه با استفاده از کدام مورد می توانیم مسیرها و فاصله ی آن ها را در دریا پیدا کنیم؟

۱- رایانه

۲- سامانه ی موقعیت یاب جهانی

۳- جی پی اس

۴- همه ی موارد

۸- کدام دسته از کالاهای زیر از واردات کشور ما می باشند؟

۱- قالی - خشکبار - مس - پتروشیمی

۲- کاغذ - دارو - ماشین آلات - وسایل برقی

۳- نفت و گاز - کاغذ - مس

۴- ماشین آلات - دارو - قالی - خشکبار

۹- بخش عمده ی صادرات و واردات کشور ما از چه طریقی و با چه وسیله ای صورت می گیرد؟

۱- بندر - کشتی

۲- آسمان - هواپیما

۳- زمین - راه آهن

۴- جاده - کامیون

۱۰- کدام مورد از کالاهای صادراتی ایران نمی باشد؟

۱- مس

۲- پتروشیمی

۳- ماشین آلات

۴- خشکیار

۱۱- هزینه ی مسافرت با کدام وسیله زیاد است؟

۱- قطار

۲- هواپیما

۳- کشتی

۴- اتوبوس

۱۲- کدام یک از شهرهای زیر فرودگاه بین المللی دارند؟

۱- اهواز - شهرکرد - بجنورد - اردبیل

۲- همدان - زنجان - تهران - اصفهان

۳- یاسوج - همدان - بیرجند - رفسنجان

۴- یزد - زاهدان - کرمانشاه - شیراز

۱۳- کدام شهر فرودگاه ندارد؟

۱- لار

۲- سمنان

۳- ایلام

۴- طبس

جاهای خالی را با کلمات مناسب کامل کنید.

- ۱- قطارها ممکن است یا مخصوص باشند.
 - ۲- کشور ما از و به دریا راه دارد.
 - ۳- به کسی که کشتی را هدایت می کند، می گویند.
 - ۴- بخش عمده ی و کشورها از طریق بندر و به وسیله ی کشتی صورت می گیرد.
 - ۵- هواپیما برای حمل مسافر و ، بسیار مناسب است؛ زیرا سرعت زیادی دارد و مسافت های طولانی را در مدت طی می کند.
 - ۶- هدایت هواپیما را و به عهده دارند.
 - ۷- شهر تبریز و مشهد فرودگاه دارند.
 - ۸- قطار در مقایسه با کامیون مقدار کالا را حمل و جابه جا می کند.
 - ۹- امروزه همه ی نواحی و کشورها برای رفع به هم وابسته اند.
- عبارت های درست و نادرست را مشخص کنید.

- ۱- در مسیرهای کوتاه، یک راهبر و در مسیرهای طولانی چند راهبر قطار را هدایت می کنند.
- ۲- راه آهن ایران علاوه بر حمل مسافران، کار جابه جایی کالاها را انجام می دهد.
- ۳- همه ی کشورها به دریا دسترسی دارند.
- ۴- کاپیتان می تواند کشتی را از مسیرهای مشخص شده، روی نقشه هدایت کند.
- ۵- راه آهن و راه های جاده ای ما به راه های کشورهای همسایه متصل می کند.
- ۶- خلبان قبل از پرواز فقط سوخت هواپیما را بررسی می کند.

به سؤالات زیر با دقت و کامل پاسخ دهید.

۱- اصطلاحات زیر را تعریف کنید.

۱- لوکوموتیوران:

۲- ناخدا:

۳- بندر:

۲- صادرات ایران را نام ببرید.

۳- واردات ایران را نام ببرید.

۴- وظیفه ی ناخدا در کشتی چیست؟ (سه مورد)

۵- امروزه چگونه می توانیم مسیرها و فاصله ی آن ها را در دریا پیدا کنیم؟

۶- خلبان قبل از پرواز چه کارهایی انجام می دهد؟ (سه مورد)

۷- چهار شهر نام ببرید که دارای فرودگاه بین المللی هستند.

۸- چهار شهر نام ببرید که دارای فرودگاه داخلی هستند.

۹- جدول زیر را کامل کنید.

وسيله	خوبی ها (مزایا)	بدی ها (معایب)
هواپیما		
کشتی		
قطار		

۱۰- وسیله ی مناسب برای هر مورد را با خط به آن وصل کنید.

سفر به مشهد مقدس هواپیما

رفتن به روستای پدربزرگ کشتی

بردن نفت و گاز به یک کشور دور قطار

شرکت در مراسم حج (مکه) اتوبوس

درس دهم

پاسخ درست را علامت بزیند.

۱- حکومت سلطنتی پهلوی در چه سالی و به رهبری چه کسی سرنگون شد؟

۱- ۱۳۵۷ - آیت الله خامنه ای

۲- ۱۳۵۷ - امام خمینی (ره)

۳- ۱۳۵۸ - امام خمینی (ره)

۴- ۱۳۵۸ - آیت الله خامنه ای

۲- حکومت ایران در چه تاریخی به جمهوری اسلامی تبدیل شد؟

۱- ۲۲ بهمن ۱۳۵۷

۲- ۱۱ فروردین ۱۳۵۷

۳- ۱۲ فروردین ۱۳۵۸

۴- ۲۲ بهمن ۱۳۵۸

۳- چند درصد مردم به جمهوری اسلامی رأی «آری» دادند؟

۱- کم تر از ۹۸ درصد

۲- بیش از ۹۹ درصد

۳- کم تر از ۸۵ درصد

۴- بیش از ۹۸ درصد

۴- اولین رهبر انقلاب اسلامی ایران، چه کسی بود؟

۱- آیت الله طالقانی

۲- امام خمینی (ره)

۳- آیت الله خامنه ای

۴- آیت الله بهشتی

۵- کدام مورد بر همه ی فعالیت های قوای سه گانه نظارت دارد؟

۱- مجلس شورای اسلامی

۲- شورای نگهبان

۳- رهبری

۴- دولت

۶- قوه ی مجریه از چه کسانی تشکیل شده است؟

۱- نمایندگان مردم - رئیس مجلس

۲- رئیس جمهور - رئیس مجلس

۳- رئیس جمهور - هیئت وزیران

۴- هیئت وزیران - نمایندگان مردم

۷- کار رسیدگی به اختلاف ها و شکایت های مردم بر عهده ی کدام مورد است؟

۱- دولت

۲- قوه ی مجریه

۳- رهبر

۴- قوه ی مقننه

۸- در کشور ما وظیفه ی قانون گذاری برعهده ی کیست؟

۱- قوه ی مقننه

۲- قوه ی قضاییه

۳- رهبری

۴- قوه ی مجریه

۹- مجلس شورای اسلامی و شورای نگهبان از اعضای کدام مورد می باشند؟

۱- قوه ی قضاییه

۲- دولت

۳- قوه ی مقننه

۴- قوه ی مجریه

۱۰- در کشور ما رئیس جمهور چند سال یک بار و چگونه انتخاب می شود؟

۱- هر ۴ سال یک بار، با انتخاب رهبر

۲- هر ۶ سال یک بار، با رأی مجلس شورای اسلامی

۳- هر ۶ سال یک بار، با انتخاب رئیس قوه ی قضاییه

۴- هر ۴ سال یک بار، با رأی مردم

۱۱- کدام مورد از کارهای دولت نیست؟

۱- حفظ امنیت مردم

۲- نظارت بر اجرای درست قوانین

۳- روابط با کشورهای خارجی

۴- فراهم کردن امکانات برای آموزش و پرورش

۱۲- قوه ی قضاییه از کدام طریق به اختلاف ها و شکایت های مردم رسیدگی می کند؟

۱- دادگاه ها

۲- مجلس

۳- وزیران

۴- دفتر رهبری

۱۳- کدام مورد از ویژگی های رهبر جامعه اسلامی نیست؟

۱- عالم و عادل

۲- آگاه به اوضاع جامعه

۳- نوشتن قانون کشور

۴- پیروی از دستورات اسلام

جاهای خالی را با کلمات مناسب کامل کنید.

- ۱- برای اداره ی یک کشور به نیازمندیم.
- ۲- حکومت کشور ما است.
- ۳- مهم ترین قانون هر کشور، آن است.
- ۴- در قانون اساسی، روش مشخص شده است.
- ۵- اولین رهبر انقلاب اسلامی ایران، حضرت بودند که انقلاب اسلامی را هدایت کردند و آن را به رساندند.
- ۶- پس از رحلت امام خمینی در سال ، حضرت به عنوان رهبر انقلاب اسلامی ایران انتخاب شدند.
- ۷- در کشور ما قوه ی مقننه وظیفه ی را به عهده دارد.
- ۸- نمایندگان هر چهار سال یک بار با رأی مردم انتخاب می شوند.
- ۹- قوه ی مجریه همان است.
- ۱۰- قوه ی بر اجرای درست قوانین نظارت می کند؛ یعنی اگر در جایی قانون رعایت نشود و صورت بگیرد، به آن رسیدگی می کند.

عبارت های درست و نادرست را مشخص کنید.

- ۱- دفاع از کشور در مقابل حمله ی دشمن از وظایف حکومت است.
- ۲- پس از پیروزی انقلاب اسلامی، مردم در روز ۱۱ فروردین ۱۳۵۷ به پای صندوق های رأی رفتند.
- ۳- حکومت پهلوی ستمگر بود و مردم آن را انتخاب کرده بودند.
- ۴- برای اداره ی یک کشور و تصمیم گیری درباره ی فعالیت های مختلف مقررات و قوانین لازم است.
- ۵- دولت از رئیس جمهور و نمایندگان تشکیل شده است.

به سؤالات زیر با دقت و کامل پاسخ دهید.

- ۱- مهم ترین وظایف حکومت ها را بنویسید. (پنج مورد)
- ۲- جمهوری اسلامی چه نوع حکومتی است؟
- ۳- در قانون اساسی هر کشوری چه چیزی مشخص شده است؟

- ۴- چه کسانی کشور ما را اداره می کنند؟
- ۵- برطبق قانون اساسی، رهبری جامعه ی اسلامی ما بر عهده ی کیست؟
- ۶- رهبر جامعه ی اسلامی چه ویژگی هایی باید داشته باشد؟ (چهار مورد)
- ۷- قوای سه گانه را نام ببرید.
- ۸- چهار نمونه از کارهای دولت را بنویسید.
- ۹- نمایندگان مجلس شورای اسلامی هر چند سال یک بار و چگونه انتخاب می شوند؟
- ۱۰- رئیس جمهور در کشور ما چگونه انتخاب می شود؟
- ۱۱- در تاریخ ۱۲ فروردین ۱۳۵۸ در ایران چه اتفاقی افتاد؟
- ۱۲- وظیفه ی مقام رهبری در کشور ما چیست؟
- ۱۳- جدول زیر را کامل کنید.

وظیفه	اعضا	قوه
		مقننه
		مجریه
		قضایه

درس یازدهم

پاسخ درست را علامت بزینید.

۱- چند کشور در همسایگی ایران هستند؟

۱- ۵

۲- ۷

۳- ۸

۴- ۹

۲- کدام کشور همسایه در شمال شرقی ایران قرار دارد؟

۱- ترکمنستان

۲- جمهوری آذربایجان

۳- عراق

۴- ارمنستان

۳- کدام کشور از همسایگان شرقی ایران است؟

۱- ترکیه

۲- عراق

۳- پاکستان

۴- ترکمنستان

۴- کدام یک از همسایگان ایران به دریای عمان راه دارد؟

۱- افغانستان

۲- پاکستان

۳- عراق

۴- جمهوری آذربایجان

۵- کدام همسایه ی ایران به دریا راه ندارد؟

۱- پاکستان

۲- ترکمنستان

۳- عراق

۴- جمهوری آذربایجان

۶- کم وسعت ترین کشور همسایه ی ایران کدام است؟

۱- ترکمنستان

۲- ارمنستان

۳- پاکستان

۴- افغانستان

۷- جاهای خالی را با کلمات مناسب کامل کنید.

۱- ایران از همه ی کشورهای همسایه اش است.

۲- کشور ترکیه در ایران قرار دارد.

۳- رشته کوه اصلی جمهوری آذربایجان نام دارد.

۴- رود کشور ایران را از ارمنستان جدا می کند.

۵- شهر در جمهوری آذربایجان و ایران همنام هستند.

۶- عربستان سعودی در کنار دریای و قرار گرفته است.

عبارت های درست و نادرست را مشخص کنید.

۱- ۹۸ درصد مردم کشور ارمنستان مسلمان هستند.

۲- رود ارس به دریای خزر می ریزد.

۳- کشور ترکمنستان به دریای عمان راه دارد.

به سوالات زیر با دقت و کامل پاسخ دهید.

۱- همسایگان شمالی ایران را نام ببرید.

- ۲- کدام کشورها در غرب ایران قرار دارند؟
- ۳- چرا کشور ارمنستان به این نام، نامیده شده است؟
- ۴- کدام یک از کشورهای همسایه ی ایران به دریای خزر راه دارند؟
- ۵- ایران از طریق کدام دریا و به کدام اقیانوس راه دارد؟
- ۶- کدام کشورها در شرق ایران قرار دارند؟
- ۷- کدام کشورهای عربی در کنار خلیج فارس واقع شده اند؟
- ۸- ترکیه از شمال و جنوب به کدام دریاها راه دارد؟
- ۹- چرا ماهیگیری در جمهوری آذربایجان رونق دارد؟
- ۱۰- چرا کشاورزی در جمهوری آذربایجان بسیار پررونق است؟
- ۱۱- چرا ارمنستان بیشتر موادّ اولیه ی کارخانه های خود را از خارج وارد می کند؟
- ۱۲- قسمت های خواسته شده را روی نقشه نام گذاری کنید.



- پاکستان
- عراق
- ترکمنستان
- ترکیه
- اقیانوس هند
- دریای سرخ

درس دوازدهم

پاسخ درست را علامت بزنید.

۱- کشور پاکستان در کدام طرف ایران قرار دارد؟

۱- غرب

۲- شمال

۳- شرق

۴- جنوب

۲- مهم ترین بندر پاکستان چه نام دارد؟

۱- لاهور

۲- کراچی

۳- اسلام آباد

۴- پشاور

۳- جلگه ی وسیع مرکزی پاکستان از آبرفت های کدام رود به وجود آمده است؟

۱- رود ارس

۲- رود اترک

۳- رود سند

۴- رود آمودریا

۴- کشور ترکمنستان در کدام طرف ایران واقع شده است؟

۱- شمال شرقی

۲- غرب

۳- شمال غربی

۴- شرق

۵- صحرای بزرگ ترکمنستان چه نام دارد؟

- ۱- توران
- ۲- قفقاز
- ۳- قره قوم
- ۴- بغار

جاهای خالی را با کلمات مناسب کامل کنید.

- ۱- قالی بافی از صنایع دستی عمده ی کشور است.
- ۲- بندر کراچی در کناره ی قرار دارد.
- ۳- جلگه ی وسیع مرکزی از آبرفت های رود سند به وجود آمده است.
- ۴- رود آمودریا به می ریزد.

عبارت های درست و نادرست را مشخص کنید.

- ۱- کوه نوردان کشورهای مختلف به سفر به کشور پاکستان علاقه مندند.
- ۲- رود آمودریا در کشور پاکستان است.
- ۳- مردم کشور ترکمنستان به ورزش سوارکاری علاقه ی زیادی دارند.

به سؤالات زیر با دقت و کامل پاسخ دهید.

- ۱- چرا بندکراچی در پاکستان اهمیت جهانی دارد؟
- ۲- چرا کشت برنج و پنبه در پاکستان رونق دارد؟
- ۳- چرا کوه نوردان کشورهای مختلف، به سفر به پاکستان علاقه مندند؟
- ۴- پایتخت و یک شهر مهم ترکمنستان را نام ببرید.
- ۵- چرا قالی بافی از صنایع دستی عمده ی کشور ترکمنستان است؟
- ۶- مردم ترکمنستان به کدام ورزش علاقه ی زیادی دارند؟ چرا؟

درس سیزدهم

۱- یک دور حرکت چرخشی، چه مدت طول می کشد؟

۱- یک ماه

۲- ۲۴ ساعت (یک شبانه روز)

۳- یک سال (۳۶۵ روز)

۴- یک هفته

۲- وقتی که خورشید به طور مستقیم در بالای نقطه ای که ما ایستاده ایم قرار می گیرد، چه زمانی است؟

۱- صبح

۲- ظهر

۳- روز

۴- شب

۳- جهت حرکت زمین به دور خورشید چگونه است؟

۱- از شمال به جنوب

۲- از جنوب به شمال

۳- از غرب به شرق

۴- از شرق به غرب

۴- نتیجه ی حرکت چرخشی زمین چیست؟

۱- پیدایش شب و روز

۲- پدید آمدن فصل ها

۳- بارش برف و باران

۴- به وجود آمدن سال

۵- یک دور حرکت انتقالی زمین، چه مدت طول می کشد؟

۱- یک شبانه روز (۲۴ ساعت)

۲- یک ماه

۳- یک هفته

۴- یک سال (۳۶۵ روز)

۶- نتیجه ی حرکت انتقالی زمین چیست؟

۱- پدید آمدن فصل ها

۲- پیدایش شب و روز

۳- بارش برف و باران

۴- به وجود آمدن مدارها

۷- کدام نیمکره زمین در بالای خط استوا قرار دارد؟

۱- نیمکره ی شرقی

۲- نیمکره ی جنوبی

۳- نیمکره ی غربی

۴- نیمکره ی شمالی

۸- کدام مورد تا قطب شمال و جنوب به ۹۰ درجه تقسیم شده است؟

۱- مدار استوا

۲- نصف النهار مبدأ

۳- نیمکره ی جنوبی

۴- نصف النهار گرینویچ

۹- کدام مورد، زمین را به دو نیمه ی شرقی و غربی تقسیم می کند؟

۱- خط استوا

۲- نصف النهار مبدأ

۳- مدار استوا

۴- خط های فرضی

جاهای خالی را با کلمات مناسب کامل کنید.

- ۱- زمین یکی از سیاره های است.
- ۲- سیاره های زمین علاوه بر گردش به دور خورشید به دور نیز می چرخند.
- ۳- خورشید هر روز از طلوع و در غروب می کند.
- ۴- به چرخش زمین به دور خودش، حرکت می گویند که بر اثر آن، پدید می آید.
- ۵- در هنگام چرخش زمین به دور خورشید، نیمه ی روبه خورشید، و نیمه ی دور از خورشید است.
- ۶- نیمکره ی جنوبی در پایین قرار دارد.
- ۷- نصف النهار مبدأ درجه است.
- ۸- نصف النهار مبدأ از دهکده ی در نزدیکی شهر عبور می کند.
- ۹- یک دور گردش زمین به دور یک شبانه روز طول می کشد.
- ۱۰- ایران و کشورهای همسایه اش در نیمکره ی و قرار دارند.

عبارت های درست و نادرست را مشخص کنید.

- ۱- ما چرخش زمین را به دور خودش احساس نمی کنیم.
- ۲- زمین در همان حال که به دور خود می چرخد، به دور خورشید نیز می گردد.
- ۳- از نصف النهار مبدأ به سمت شرق و غرب به ۹۰ درجه تقسیم شده است.
- ۴- همه ی مکان های روی زمین به طور پیوسته در مقابل نور خورشید قرار می گیرند و دوباره از مقابل آن دور شده و در روشنایی فرو می روند.

به سؤالات زیر با دقت و کامل پاسخ دهید.

۱- اصطلاحات زیر را تعریف کنید:

۱- حرکت چرخشی:

۲- حرکت انتقالی:

۳- ظهر:

۴- نیمکره:

۵- خط استوا:

۶- مدار:

۷- نصف النهار:

۲- شب و روز چگونه به وجود می آیند، توضیح دهید.

۳- جغرافی دانان برای اینکه بتوانند سطح زمین را بهتر مطالعه کنند، چه کارهایی انجام می دهند؟

۴- نصف النهار مبدأ چند درجه است و چگونه تقسیم شده است؟

۵- مدار استوا چند درجه است و چگونه تقسیم شده است؟

۶- مهم ترین نصف النهار چه نام دارد؟

۷- نام دیگر نصف النهار مبدأ چیست؟ چرا؟

۸- موارد خواسته شده را روی شکل نشان دهید و نام گذاری کنید.

۱- جهت حرکت زمین

۲- قطب شمال

۳- قطب جنوب

۴- نصف النهار مبدأ

۵- خط استوا



درس چهاردهم

پاسخ درست را علامت بزنید.

۱- کره ی زمین چند نفر جمعیت دارد؟

۱- کمتر از ۵ میلیارد

۲- بیش از ۷ میلیارد

۳- بیش از ۸ میلیارد

۴- کمتر از ۷ میلیارد

۲- پرجمعیت ترین قاره ی جهان کدام است؟

۱- استرالیا

۲- آمریکا

۳- آسیا

۴- اروپا

۳- کدام یک از قاره های زیر دیرتر کشف و شناخته شدند؟

۱- آمریکا - استرالیا

۲- آسیا - اروپا

۳- آمریکا - آفریقا

۴- استرالیا - آسیا

۴- پرجمعیت ترین کشورهای جهان کدام اند؟

۱- عربستان و چین

۲- هند و چین

۳- ایران و هند

۴- چین و ژاپن

۵- کدام اقیانوس در جنوب قاره ی آفریقا قرار گرفته است؟

۱- هند

۲- منجمد جنوبی

۳- آرام

۴- منجمد شمالی

۶- کشور ایران و همسایه هایش در کدام قاره قرار گرفته اند؟

۱- آسیا

۲- اروپا

۳- استرالیا

۴- آمریکا

۷- اروپاییان با پیشرفت در کدام مورد توانستند سرزمین های جدید (آمریکا و استرالیا) را به تصرف درآورند؟

۱- ستاره شناسی

۲- دریانوردی

۳- کشاورزی

۴- ریاضی

۸- اسکیموها در کدام ناحیه زندگی می کنند؟

۱- نواحی بیابانی

۲- جنگل های استوایی

۳- نواحی قطبی

۴- نواحی گرم و خشک

۹- پوشش گیاهی در جنگل های استوایی چگونه است؟

۱- درختان سوزنی برگ

۲- پوشش گیاهی فقیر استو

۳- درختان پهن برگ

۴- درخچه های کوتاه

۱۰- اسکیموها غذایشان را از چه راهی به دست می آورند؟

۱- شکار

۲- دام پروری

۳- جمع آوری میوه ها

۴- کشاورزی

۱۱- کدام مورد از حیوانات ناحیه ی قطبی نیست؟

۱۲- بعضی از مردم بومی کشورهای مالزی و اندونزی کدام مورد را در مزرعه های بزرگ خود کشت می کردند؟

۱- سبزیجات

۲- گندم

۳- آناناس

۴- پرتقال

جاهای خالی را با کلمات مناسب کامل کنید.

۱- بیشتر کره ی زمین را فرا گرفته است.

۲- سه قاره ی آسیا، و به یکدیگر نزدیک ترند.

۳- چین و هند، پرجمعیت ترین کشورهای جهان، در قاره ی قرار دارند.

۴- در نزدیکی قطب شمال در سرزمین مجاور ، آب و هوا بسیار سرد است.

۵- لباس اسکیموها از است و آن ها را از حفظ می کند.

۶- خط استوا از آسیا می گذرد.

- ۷- عدّه ی کمی از مردم بومی در کشورهای و به صورت قبیله ای در جنگل های استوایی زندگی می کنند.
- ۸- پوشش گیاهی در نواحی قطبی، است.
- ۹- در نواحی قطبی زندگی می کنند.
- ۱۰- مردم قبیله ها در نواحی بیابانی، زندگی دارند.

عبارت های درست و نادرست را مشخص کنید.

- ۱- پوشش گیاهی در نواحی بیابانی فقیر است.
- ۲- اروپاییان با کشتی خود را به سرزمین های جدید رساندند و آن ها را تصرف کردند.
- ۳- در نواحی بیابانی هوا در طول سال گرم است و هر روز باران می بارد.
- ۴- مردم قبیله ها در نواحی بیابانی با خانواده و دام هایشان به دنبال پیدا کردن چراگاه کوچ می کنند.
- ۵- در هر ناحیه از کره ی زمین، مردم رای رفع نیازهای خود به روش های یکسان با یکدیگر ارتباط دارند.

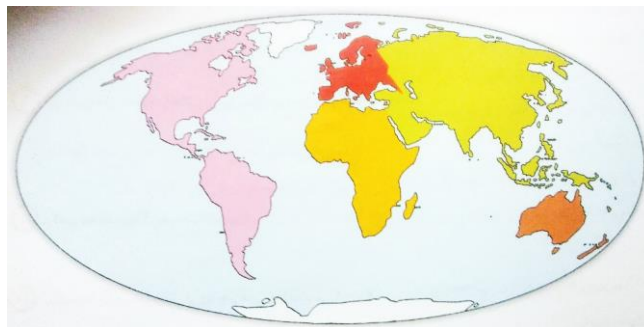
به سوالات زیر با دقت و کامل پاسخ دهید.

- ۱- اصطلاحات زیر را تعریف کنید.

قاره

اقیانوس

- ۲- قاره های جهان را روی نقشه نام گذاری کنید.



- ۳- اقیانوس های جهان را نام ببرید.
- ۴- اروپاییان چگونه قاره های آمریکا و استرالیا را به تصرف در آوردند؟
- ۵- نواحی مختلف جهان از چه نظر باهم تفاوت دارند؟ (سه مورد)
- ۶- کدام قاره ی جهان از دو تکه تشکیل شده است؟ نام دو تکه ی آن را بنویسید.
- ۷- کدام قاره ها به یکدیگر نزدیک ترند؟
- ۸- انسان ها برای رفع کدام نیازهای خود از محیط طبیعی استفاده می کنند؟ (چهار مورد)
- ۹- چرا شیوه های مختلف زندگی زندگی بر روی سیاره ی زمین به وجود آمده است؟
- ۱۰- نواحی مختلف زندگی مردم را نام ببرید.
- ۱۱- اسکیموها برای حمل و نقل از چه چیزهایی استفاده می کردند؟
- ۱۲- جدول زیر را کامل کنید.

نوع فعالیت	خانه (مسکن)	غذا و لباس	نوع جانوران	پوشش گیاهی	آب و هوا	ناحیه/کشور
شکار	تابستان: زمستان:					نواحی قطبی (شمال سیبری)
						جنگل های استوایی (اندونزی)
				فقیر است.		نواحی بیابانی (عربستان)

درس پانزدهم

پاسخ درست را علامت بزنید.

۱- بزرگ ترین و مهم ترین مسجد دنیا، کدام است؟

۱- مسجدالنبی

۲- مسجدالاقصی

۳- مسجدالحرام

۴- مسجد قبا

۲- مهم ترین شهرهای مقدّس مسلمانان جهان، کدام اند؟

۱- مشهد - مکه

۲- مکه - مدینه

۳- کربلا - مدینه

۴- جنوب شرقی

۳- در کشور ما کدام جهت، قبله را نشان می دهد؟

۱- شمال شرقی

۲- جنوب غربی

۳- شمال غربی

۴- جنوب شرقی

۴- کشور عربستان در کنار کدام دریا قرار گرفته است؟

۱- دریای مدیترانه

۲- دریای عمان

۳- دریای خزر

۴- دریای سرخ

۵- حضرت محمد (ص) چند سال خویشاوندان و آشنایان را به صورت مخفیانه به دین اسلام دعوت کرد؟

۱- ۳ سال

۲- ۱۰ سال

۳- ۲۰ سال

۴- ۲۳ سال

۶- اولین پیشنهاد کافران و ثروتمندان به پیامبر (ص) برای جلوگیری از پیشرفت اسلام چه بود؟

۱- نوشتن عهدنامه

۲- دادن پول و مقام

۳- شکنجه و آزار

۴- قطع رابطه با مسلمانان

۷- وقتی آزار و اذیت کافران زیاد شد، پیامبر (ص) به جمعی از مسلمانان دستور دادند، به کدام کشور هجرت کنند؟

۱- مصر

۲- عربستان

۳- حبشه

۴- یمن

۸- خبر خورده شدن عهدنامه به وسیله ی موریانه توسط چه کسی به کافران داده شد؟

۱- ابوطالب

۲- عبدالمطلب

۳- حضرت علی (ع)

۴- عبدالله

جاهای خالی را با کلمات مناسب کامل کنید.

۱- خانه ی کعبه در قرار دارد که بزرگ ترین و مهم ترین مسجد دنیا است.

- ۲- به سرزمینی که از سه طرف به آب و از یک طرف به خشکی راه دارد، می گویند.
- ۳- در زمان ظهور اسلام، مهم ترین شهر عربستان بود.
- ۴- عقربه ی قبله نما سمت را نشان می دهد.
- ۵- حضرت محمد (ص) برای راز و نیاز با خدا به می رفتند.
- ۶- حضرت محمد (ص) پس از ، مأموریت یافتند که مردم را پنهانی به دین اسلام دعوت کنند.
- ۷- آزار و اذیت کافران آن قدر زیاد بود که پیامبر به جمعی از مسلمانان دستور داد که به حبشه کنند.
- ۸- پادشاه کشور حبشه، مردی بود و مسلمانان می توانستند در آن کشور، زندگی کنند.
- ۹- پیامبر و یارانش سه سال در درّه ی در کمال سختی زندگی کردند.
- عبارت های درست و نادرست را مشخص کنید.

- ۱- خانه ی کعبه قبله ی مسلمانان جهان است.
- ۲- کشور عربستان در جنوب شرقی ایران قرار دارد.
- ۳- عموی پیامبر (ص) ابوطالب نام دارد.
- ۴- غار حرا در نزدیکی شهر مدینه قرار دارد و از مکان های مقدّس است.
- ۵- ما در هنگام حج، خانه ی کعبه را طواف می کنیم.
- ۶- بعد از سه سال، خداوند به پیامبر (ص) مأموریت داد تا همه ی مردم را آشکارا به دین اسلام دعوت کند.

به سوّالات زیر با دقّت و کامل پاسخ دهید.

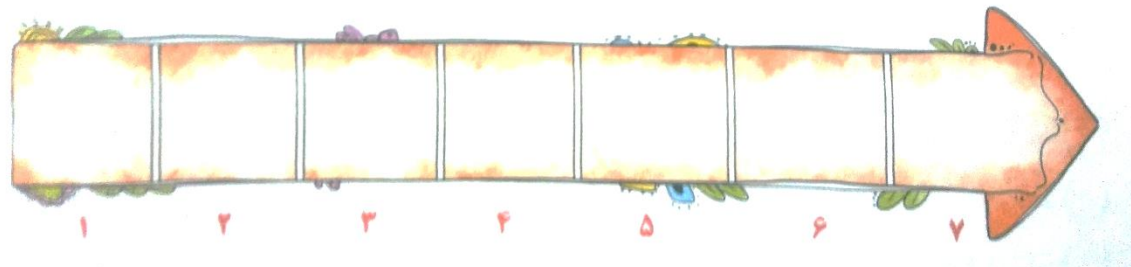
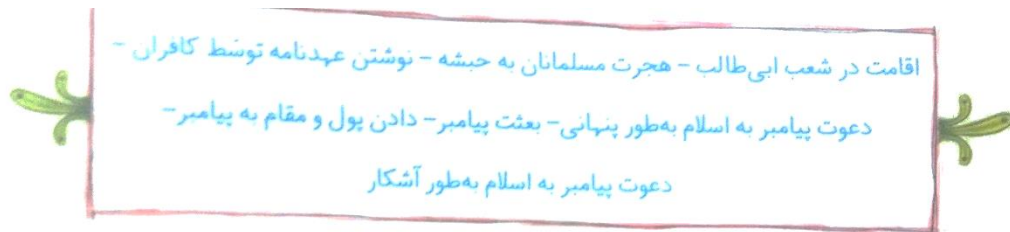
- ۱- اصطلاحات زیر را تعریف کنید.

طواف:

شبه جزیره:

- ۲- مهم ترین شهرهای مقدّس مسلمانان جهان کدام اند و در کدام کشور قرار دارند؟

- ۳- چرا شهر مکه در زمان ظهور اسلام، مهم ترین شهر عربستان بود؟
- ۴- ما چگونه و با چه وسیله ای می توانیم جهت قبله را پیدا کنیم؟
- ۵- چرا غار حرا از مکان های مقدّس است؟
- ۶- پیامبر اسلام (ص) چند سال و چه کسانی را به صورت پنهانی به دین اسلام دعوت کردند؟
- ۷- وقتی خبر ظهور اسلام در عربستان پیچید، کافران و ثروتمندان مکه چه کردند؟
- ۸- وقتی کافران فهمیدند که حضرت محمد (ص) از مبارزه با بت پرستی دست برنمی دارد، به چه فکری افتادند و چه کردند؟
- ۹- چرا پیامبر به جمعی از مسلمانان دستور دادند که به حبشه هجرت کنند؟
- ۱۰- دریا‌های اطراف شبه جزیره ی عربستان را نام ببرید.
- ۱۱- کافران برای جلوگیری از گسترش اسلام به وسیله ی پیامبر و یارانش با هم چه پیمانی بستند؟
- ۱۲- کافران عهدنامه را در کجا گذاشتند و چه اتفاقی برای آن افتاد؟
- ۱۳- کافران بعد از شنیدن درستی خبر خورده شدن عهدنامه توسط موریانه، چه کردند؟
- ۱۴- رویدادهای زیر را به ترتیب روی خطّ زمان بنویسید.



- ۱۵- پیامبر (ص) در برابر آزار و اذیت کافران چگونه رفتار می کردند؟
- ۱۶- چرا کافران از گسترش دین اسلام احساس خطر می کردند؟

۱۷- چه زمانی طواف می کنیم و به چه معنی است؟

۱۸- کافران بعد از شنیدن درستی خبر خورده شدن عهدنامه به وسیله ی موریانه، چه کردند؟

درس شانزدهم

پاسخ درست را علامت بزنید.

۱- نام قدیم شهر مدینه چه بوده است؟

۱- جدّه

۲- یثرب

۳- مدینه النّبی

۴- ریاض

۲- وقتی کافران تصمیم به قتل پیامبر (ص) گرفتند، چه کسی داوطلب شد برای حفظ جان پیامبر

(ص)، در بستر ایشان بخوابد؟

۱- ابوطالب

۲- عبدالمطلب

۳- ابوسفیان

۴- حضرت علی (ع)

۳- حضرت محمد (ص) در کدام یک از جنگ های زیر شرکت نداشتند؟

۱- بدر

۲- احد

۳- صفین

۴- خندق

۴- مبدأ تاریخ مسلمانان جهان، کدام مورد است؟

۱- بعثت پیامبر (ص)

۲- هجرت پیامبر از مکه به مدینه

۳- رحلت پیامبر (ص)

۴- هجرت پیامبر از مدینه به مکه

۵- نخستین کار پیامبر در شهر مدینه چه بود؟

۱- ساختن مسجد و تشکیل حکومت اسلامی

۲- آموزش و تربیت

۳- داوری و حل اختلاف

۴- مشورت و تصمیم گیری

۶- سردسته ی مخالفان پیامبر (ص) در مکه، چه کسی بود؟

۱- معاویه

۲- یزید

۳- ابوسفیان

۴- ابوطالب

۷- پیامبر (ص) در چه سنّی و در کدام شهر رحلت فرمودند؟

۱- ۶۳ سالگی - مکه

۲- ۶۳ سالگی - مدینه

۳- ۶۵ سالگی - مکه

۴- ۶۵ سالگی - مدینه

۸- آرامگاه پیامبر اسلام (ص) در کجاست؟

۱- مسجدالحرام

۲- مسجد قبا

۳- مسجدالنبی

۴- مسجدالاقصی

جاهای خالی را با کلمات مناسب کامل کنید.

۱- دومین مسجد مهمّ مسلمانان است و در شهر قرار دارد.

- ۲- زمانی که پیامبر اکرم (ص) از مکه به مدینه هجرت کردند، نام شهر یثرب به تغییر یافت.
- ۳- به سفر پیامبر از مکه به مدینه می گویند.
- ۴- نخستین کار پیامبر در شهر ، ساختن مسجد و سپس بود.
- ۵- ابوسفیان سردسته س مخالفان پیامبر در بود.
- ۶- رفتار و کردار بهترین سرمشق و الگو برای ماست.
- ۷- پیامبر اکرم (ص) نسبت به مهربان و نسبت به سرسخت بودند.

عبارت های درست و نادرست را مشخص کنید.

- ۱- حضرت محمد (ص) به اراده ی خداوند از تصمیم قتل خود توسط کافران باخبر شد.
- ۲- پس از فتح مکه، ابوطالب وارد خانه ی کعبه شد و بت ها را شکست.
- ۳- پیامبر اکرم (ص) کودکان را بسیار دوست داشتند.

به سوالات زیر با دقت و کامل پاسخ دهید.

- ۱- اصطلاحات زیر را تعریف کنید.
هجرت:
جهاد در راه خدا:
- ۲- وقتی پیامبر (ص) به وسیله ی خداوند از تصمیم قتل خود توسط کافران آگاه شدند، چه کردند؟
- ۳- نخستین کار پیامبر در شهر مدینه چه بود؟
- ۴- مسجد در زمان پیامبر (ص) محلّ چه کارهایی بوده است؟ (چهار مورد)
- ۵- مهم ترین جنگ هایی که پیامبر در آن شرکت داشتند را نام ببرید.
- ۶- پس از فتح مکه، حضرت محمد (ص) چه کردند؟
- ۷- مکه چگونه به دست مسلمانان فتح شد؟ (توضیح دهید)
- ۸- دو مسجد مهمّ مسلمانان جهان را نام ببرید.
- ۹- چهار ویژگی اخلاقی پیامبر (ص) را بنویسید.

درس هفدهم

پاسخ درست و را علامت بزنید.

۱- کربلا در کدام کشور همسایه ی ایران قرار دارد؟

۱- ترکمنستان

۲- ترکیه

۳- عراق

۴- ارمنستان

۲- کشور عراق در کدام طرف ایران واقع شده است؟

۱- غرب

۲- شمال

۳- شرق

۴- جنوب

۳- کشور عراق به کدام دریا راه دارد؟

۱- دریای عمان

۲- خلیج فارس

۳- دریای خزر

۴- بغداد

۴- کدام مورد از شهرهای مقدّس و زیارتی عراق نمی باشد؟

۱- سامرا

۲- نجف

۳- کاظمین

۴- بغداد

۵- کدام رود از داخل ایران به اروند رود می ریزد؟

- ۱- ارس
- ۲- اترک
- ۳- کارون
- ۴- تجن

جاهای خالی را با کلمات مناسب کامل کنید.

- ۱- هم از راه و هم از راه می توان به کشور عراق سفر کرد.
- ۲- مهم ترین بندر عراق بندر است.
- ۳- جلگه ی پهناور عراق از آبرفت دو رود و پدید آمده است.

عبارت های درست و نادرست را مشخص کنید.

- ۱- بغداد و کرکوک دو شهر نفت خیز عراق هستند.
- ۲- کشور عراق آثار باستانی زیادی دارد.
- ۳- کشور عراق به هیچ دریایی راه ندارد.

به سوالات زیر با دقت و کامل پاسخ دهید.

- ۱- جلگه ی پهناور عراق از آبرفت کدام رودها پدید آمده است؟
- ۲- شهرهای مقدس و زیارتی عراق را نام ببرید. (چهار مورد)
- ۳- دو شهر عراق که چاه نفت دارند را نام ببرید.
- ۴- ایران و عراق در صادرات کدام کالا، شبیه به هم هستند؟
- ۵- چرا کشور عراق آثار باستانی زیادی دارد؟
- ۶- چرا مردم عراق در شرایط سختی زندگی می کنند؟

درس هجدهم

پاسخ درست را علامت بزنید.

۱- پایتخت کشور عراق کدام شهر است؟

۱- نجف

۲- بغداد

۳- بصره

۴- کربلا

۲- آرامگاه مقدس امام علی (ع) در کدام شهر عراق قرار دارد؟

۱- کربلا

۲- سامرا

۳- نجف

۴- کاظمین

۳- قبل از ورود به حرم امامان کدام کار را انجام می دهیم؟

۱- غسل زیارت

۲- دعا

۳- نماز زیارت

۴- فرستادن صلوات

۴- در زمان امام حسین (ع) چه کسی حاکم بود؟

۱- ابوسفیان

۲- مأمون

۳- یزید

۴- متوکل

۵- واقعه ی عاشورا کدام خاندان را رسوا کرد؟

۱- بنی عباس

۲- آل بویه

۳- علویان

۴- بنی امیه

۶- ۲۷ ماه رجب چه روزی است؟

۱- ولادت پیامبر (ص)

۲- هجرت پیامبر (ص)

۳- مبعث پیامبر (ص)

۴- رحلت پیامبر (ص)

۷- بین الحرمین، بین حرم چه کسانی قرار دارد؟

۱- امام حسین (ع) و امام حسین (ع)

۲- امام حسین (ع) و حضرت ابوالفضل (ع)

۳- حضرت ابوالفضل (ع) و حضرت علی (ع)

۴- امام موسی کاظم (ع) و امام حسین (ع)

۸- امام حسین (ع) و یارانش در چه سالی به شهادت رسیدند؟

۱- ۱۰ محرم سال ۴۰ هجری قمری

۲- ۲۱ رمضان سال ۶۱ هجری قمری

۳- ۱۹ رمضان سال ۴۰ هجری قمری

۴- ۱۰ محرم سال ۶۱ هجری قمری

۹- امام حسین (ع) دلیل قیام خود را چه چیز اعلام کردند؟

۱- زنده نگه داشتن دین اسلام

۲- امر به معروف

۳- نهی از منکر

۴- همه ی موارد

جاهای خالی را با کلمات مناسب کامل کنید.

۱- حرم حضرت امام حسین (ع) و حرم حضرت ابوالفضل (ع) در شهر قرار دارند.

۲- پس از شهادت امام حسن (ع) برادرش به امامت شیعیان رسید.

۳- واقعه ی خاندان بنی امیه را رسوا کرد و ظلم و فساد آن ها را آشکار کرد.

عبارت های درست و نادرست را مشخص کنید.

۱- امام اول ما شیعیان، حضرت علی (ع) است.

۲- یزید دستورات اسلام را زیر پا می گذاشت.

۳- یزید در ابتدای حکومت خود توانست از امام حسین (ع) بیعت بگیرد.

۴- روز ۱۷ ربیع الاول، روز ولادت پیامبر (ص) است.

به سوالات زیر با دقت و کامل پاسخ دهید.

۱- قبل از ورود به حرم امامان چه کارهایی انجام می دهیم؟

۲- ما برای زیارت چه کسانی به شهر کربلا می رویم؟

۳- یزید چگونه مردی بود و چه می کرد؟

۴- امام حسین (ع) درباره ی دلیل قیام خود چه فرموده اند؟

۵- واقعه ی کربلا چه تأثیرات و نتایجی داشت؟ (دو مورد)

۶- امام حسین (ع) و یارانش در چه تاریخی و در کجا به شهادت رسیدند؟

۷- حرم کدام معصومین (ع) در شهر کربلا قرار دارد؟

درس نوزدهم

پاسخ درست را علامت بزیند.

۱- پایتخت سامانیان کدام شهر بود؟

۱- زرنج

۲- اصفهان

۳- بخارا

۴- نیشابور

۲- کدام مورد از گروه های ناراضی در برابر کارهای بنی امیه بوده اند؟

۱- سامانیان

۲- خاندان بنی عباس

۳- آل بویه

۴- خاندان شیعیان

۳- چه کسی در جنگ سپاهیان بنی امیه را شکست داد و به این ترتیب خاندان بنی عباس به حکومت رسید؟

۱- عضدالدوله

۲- ابوعلی سینا

۳- ابومسلم خراسانی

۴- رودکی

۴- شهر زرنج پایتخت کدام یک از حکومت های ایرانی بوده است؟

۱- طاهریان

۲- آل بویه

۳- علویان

۴- صفاریان

۵- به پیروان چه کسی، سیاه جامگان می گفتند؟

۱- ابومسلم خراسانی

۲- عضدالدوله

۳- امیراسماعیل سامانی

۴- یعقوب لیث

۶- مرقد مطهر امام موسی کاظم (ع) در کدام شهر عراق قرار دارد؟

۱- نجف

۲- کاظمین

۳- سامرا

۴- کربلا

۷- مجسمه ی یعقوب لیث مربوط به کدام دوره است و در کجا قرار دارد؟

۱- سامانیان - ازبکستان

۲- طاهریان - نیشابور

۳- صفاریان - زابل

۴- علویان - زابل

۸- کدام شهرها پایتخت حکومت آل بویه بوده است؟

۱- نیشابور - آمل

۲- آمل - استرآباد

۳- اصفهان - ساری

۴- ری - اصفهان

۹- کدام اثر تاریخی در شهر ساری در استان مازندران قرار دارد و مربوط به کدام دوره است؟

۱- مجسمه ی یعقوب لیث - صفاریان

۲- گنبد چمستان - سامانیان

۳- گنبد چمستان - علویان

۴- بندر امیر - آل بویه

۱۰- کدام شاعر دوره ی سامانیان است؟

۱- مولوی

۲- فردوسی

۳- حافظ

۴- رودکی

۱۱- ابوعلی سینا از دانشمندان کدام دوره است؟

۱- آل بویه

۲- علویان

۳- صفاریان

۴- طاهریان

۱۲- کدام حکومت ها پیرو مذهب شیعه بودند؟

۱- آل بویه و سامانیان

۲- علویان و آل بویه

۳- طاهریان و صفاریان

۴- علویان و سامانیان

۱۳- پایتخت طاهریان کدام شهر بوده است؟

۱- نیشابور

۲- ری

۳- اصفهان

۴- ساری

جاهای خالی را با کلمات مناسب کامل کنید.

- ۱- بنی عباس با ، طرف داران زیادی در میان ایرانیان پیدا کرده بودند.
- ۲- با ورود عرب های مسلمان به ایران، حکومت منقرض شد.
- ۳- مرکز اصلی حکومت بنی عباس در بود.
- ۴- برخی از حکومت های ایرانی مانند سامانیان و صفاریان به اهمیت زیادی می دادند.
- ۵- فرمانروایان آل بویه بیمارستان مهمی در تأسیس کردند و به آموزش علم طب پرداختند.
- ۶- بندر امیر در از بناهای دوره ی آل بویه است که به دستور ساخته شد.
- ۷- مقبره ی در شهر بخارا در کشور ازبکستان است.
- ۸- رودکی شاعر معروف دوره ی بود.
- ۹- در زمان آل بویه مراکز علمی گسترش یافت.
- ۱۰- علویان و آل بویه پیرو بودند.


عبارت های درست و نادرست را مشخص کنید.

- ۱- آل بویه دشمن خلیفه ی عباسی بودند.
- ۲- فرمانروایان طاهریان به عمران و آبادی علاقه زیادی داشتند و از کشاورزان حمایت می کردند.
- ۳- شهر هرات از شهرهای قلمرو طاهریان بوده است.
- ۴- یکی از فرمانروایان علویان توانست بغداد را فتح کند و خلیفه ی عباسی را به زندان بیندازد.
- ۵- از اواخر قرن سوم هجری، ایرانیان به تدریج در بخش های مختلف ایران، حکومت هایی تشکیل دادند.

به سؤالات زیر با دقت و کامل پاسخ دهید.

- ۱- چرا قیام های زیادی علیه بنی امیه صورت گرفت؟ (سه مورد)

- ۲- خاندان بنی عباس چگونه توانستند در میان ایرانیان طرف دارانی پیدا کنند و چه می گفتند؟
- ۳- ابومسلم خراسانی که بود و چه کرد؟
- ۴- آیا با روی کار آمدن حکومت بنی عباس، وضع مسلمانان نیز تغییر کرد؟ چرا؟
- ۵- به پیروان ابومسلم خراسانی چه می گفتند؟ چرا؟
- ۶- کدام امامان شیعه به دست بنی عباس به شهادت رسیدند؟
- ۷- چرا امامان شیعه به دست بنی عباس به شهادت رسیدند؟
- ۸- حکومت های ایرانی که در دوره ی خلافت عباسیان به وجود آمدند را به ترتیب روی خط زمان زیر نام گذاری کنید.



۹- جدول زیر را کامل کنید.

کارهای انجام شده	شخصیت معروف	یک نمونه شهر	پایتخت	حکومت
				طاهریان
				صفاریان
				سامانیان
				آل بویه
				علویان

درس بیستم

پاسخ درست را علامت بزنید.

۱- ترکان در کدام نواحی ایران زندگی می کردند؟

۱- شمال شرقی

۲- جنوب شرقی

۳- شمال غربی

۴- جنوب غربی

۲- مشهورترین فرمانروای غزنوی چه کسی بود؟

۱- سلطان مسعود

۲- سلطان محمد

۳- سلطان محمود

۴- سلطان ملکشاه

۳- کدام سلسله ی ترک قلمرو بسیار وسیعی داشتند؟

۱- غزنویان

۲- سلجوقیان

۳- خوارزمشاهیان

۴- سامانیان

۴- پایتخت سلطان ملکشاه سلجوقی کدام شهر بود؟

۱- شهر ری

۲- خراسان رضوی

۳- آمل

۴- اصفهان

۵- کدام مورد از آثار تاریخی دوره ی سلجوقیان و در کدام شهر می باشد؟

- ۱- مسجد جامع رُشتخوار - مشهد
- ۲- برج طغرل - شهرری
- ۳- برج طغرل - زابل
- ۴- کاروان سرای رباط قره عشق - شهرری
- ۶- شاعر معروف دوره ی غزنویان کدام است؟

- ۱- رودکی
- ۲- مولوی
- ۳- فردوسی
- ۴- سعدی

۷- در دوره ی حکومت کدام سلسله ی ترک، زبان و ادب فارسی رواج یافت؟

- ۱- سلجوقیان
- ۲- طاهریان
- ۳- خوارزمشاهیان
- ۴- غزنویان

۸- وزیر مشهور دوره ی سلجوقیان چه نام داشت؟

- ۱- خواجه نظام الملک توسی
- ۲- خواجه نصیرالدین توسی
- ۳- عضدالدوله
- ۴- خواجه رشیدالدین همدانی

۹- مسجد جامع رُشتخوار در کدام استان و از آثار کدام دوره است؟

- ۱- فارس - غزنویان
- ۲- خراسان رضوی - خوارزمشاهیان

۳- اصفهان - خوارزمشاهیان

۴- خراسان رضوی - مازندران

۱۰- در زمان چه کسی و از کدام طرف قلمرو ایران گسترش یافت و کشور ما با مغول ها همسایه شد؟

۱- سلطان محمود - غرب

۲- سلطان مسعود - شرق

۳- سلطان ملکشاه - غرب

۴- سلطان محمد - شرق

جاهای خالی را با کلمات مناسب کامل کنید.

- ۱- پس از سلطان محمود، پسرش به حکومت رسید.
- ۲- با گسترش دین اسلام تا منطقه ی ، ترکان مسلمان شدند و به تدریج در داخل ایران رفت و آمد کردند.
- ۳- یکی از کارهای مهم سلطان محمود، لشکرکشی به بود.
- ۴- در زمان ، قلمرو سلجوقیان از شرق تا نزدیکی چین و از غرب تا دریای مدیترانه گسترش یافت.
- ۵- در دوره ی سلجوقیان، به دستور خواجه نظام الملک مدارس به نام در شهرهای بزرگ ساخته شد.
- ۶- مهم ترین سلطان خوارزمشاهیان، بود.
- ۷- حکومت با حمله ی مغول ها به ایران برچیده شد.
- ۸- در زمان سلسله های ترک در ایران، شغل بیش تر مردم، و بود.
- ۹- خواجه نظام الملک توسی به فرمان به قتل رسید.
- ۱۰- کاروان سرای در خراسان شمالی از آثار دوره ی است.

عبارت های درست و نادرست را مشخص کنید.

- ۱- از آثار تاریخی دوره ی غزنویان، مناره ای در غزنین در کشور افغانستان می باشد.

- ۲- در دوره ی سلسله های ترک، شهرهای بزرگ و آبادی در قلمرو پهناور ایران به وجود آمد.
- ۳- در دوره ی سلسله های ترک، بازرگانی با سرزمین های دیگر بسیار رونق داشت.
- ۴- سلطان مسعود گنج های فراوانی از لشکرکشی به هند به ایران آورد.
- ۵- سرانجام یکی از فرمانروایان منطقه ی خوارزم، اولین سلطان سلجوقیان را شکست داد و حکومت خوارزمشاهیان را تشکیل داد.

به سوالات زیر با دقت و کامل پاسخ دهید.

- ۱- ترکان به چه شکل زندگی می کردند و کار اصلی شان چه بود؟
- ۲- برخی از قبایل ترک چگونه در داخل ایران رفت و آمد می کردند؟
- ۳- برخی از ترکان چگونه توانستند به مقامات مهمی چون فرماندهی سپاه برسند؟
- ۴- سلسله های ترک که بر ایران حکومت می کردند را نام ببرید.
- ۵- سلطان محمود در لشکرکشی خود به هند چه کرد؟
- ۶- در زمان سلطان ملکشاه سلجوقی، قلمرو سلجوقیان در ایران تا کجا گسترش یافت؟
- ۷- در زمان حکومت سلسله های ترک تبار، ایرانیان چه نقشی در اداره ی امور کشور داشتند؟ چرا؟
- ۸- مدارس نظامیه در کدام دوره و به دستور چه کسی ساخته شد؟
- ۹- حکومت خوارزمشاهیان چگونه تشکیل شد؟ توضیح دهید.
- ۱۰- علاوه بر مدارس نظامیه چه چیزهای دیگری در دوره ی سلجوقیان ساخته شد؟
- ۱۱- در زمان سلطان محمد خوارزمشاه قلمرو ایران چه تغییری کرد؟
- ۱۲- در دوره ی سلسله های ترک چه شغل هایی در شهرهای بزرگ ایران رواج داشت؟
- ۱۳- کدام شاعر معروف ایرانی در دوره ی غزنویان بود و نام اثر معروف او چیست؟
- ۱۴- کدام یک از سه حکومت غزنویان، سلجوقیان و خوارزمشاهیان، اهمیت بیش تری دارند؟

چرا؟

درس بیست و یکم

پاسخ درست را علامت بزنید.

۱- سرزمین مغولستان در زمان خوارزمشاهیان در کجا قرار داشت؟

۱- شمال چین و غرب ایران

۲- شرق ایران و جنوب چین

۳- غرب ایران و جنوب چین

۴- شمال چین و شرق ایران

۲- در زمان چه کسی، چنگیزخان حاکم مغولستان بود؟

۱- سلطان محمود غزنوی

۲- سلطان محمد خوارزمشاه

۳- سلطان ملکشاه سلجوقی

۴- سلطان مسعود غزنوی

۳- چنگیزخان ابتدا به کدام کشور حمله کرد و اموال مردم را غارت کرد؟

۱- ایران

۲- هند

۳- چین

۴- مصر

۴- چهل سال بعد از حمله ی چنگیز، چه کسی به ایران حمله کرد؟

۱- تیمورخان

۲- هلاکوخان

۳- غایرخان

۴- شاهرخ خان

۵- هلاکو پس از فتح ایران، کدام شهر را پایتخت خود قرار داد و کدام حکومت را تأسیس کرد؟

۱- مراغه - ایلخانان

۲- اصفهان - تیموریان

۳- مراغه - مغولان

۴- اصفهان - ایلخانان

۶- چه کسی حکومت عباسیان را برانداخت؟

۱- چنگیزخان

۲- هلاکوخان

۳- سلطان محمد

۴- شاهرخ خان

۷- تیمور خود را از بستگان چه کسی می دانست؟

۱- چنگیزخان

۲- هلاکوخان

۳- سلطان محمد

۴- شاهرخ خان

جاهای خالی را با کلمات مناسب کامل کنید.

۱- حاکم شهر اترار در زمان حکومت سلطان محمد خوارزمشاه بود.

۲- از جمله کسانی که در مقابل مغول ها ایستادگی کرد، پسر سلطان محمد بود.

۳- مغول ها بسیاری از را سوزاندند و را از بین بردند.

۴- وقتی مغول ها به ایران حمله کردند، به جای ایستادگی در مقابل دشمن، فرار کرد.

۵- هلاکو به نیز لشکر کشید و آخرین خلیفه ی عباسی را به قتل رساند.

۶- تیمور از فرماندهان بی رحم مغول بود که حدود سال پس از حمله ی چنگیز،

توانست به تدریج بر حاکم شود.

۷- در زمان ، چنگیزخان حاکم مغولستان بود.

عبارت های درست و نادرست را مشخص کنید.

- ۱- چنگیزخان مردی بسیار بی رحم و خشن بود.
- ۲- مغول ها به بهانه ی کشته شدن بازرگانان خود به دست غایرخان، به ایران حمله کردند.
- ۳- هلاکو نوه ی چنگیز بعد از ۱۶۰ سال پس از حمله ی چنگیز به ایران حمله کرد.
- ۴- حمله ی مغول ها از وحشیانه ترین و زیان بارترین حمله ها در تاریخ بوده است.
- ۵- مغولستان سرزمینی با آب و هوای گرم و قبایل بیابان گرد بود.

به سوالات زیر با دقت و کامل پاسخ دهید.

- ۱- در زمان خوارزمشاهیان کدام سرزمین در شرق ایران و شمال چین قرار داشت؟
- ۲- مغولستان چگونه سرزمینی بود و مردم آن چگونه زندگی می کردند؟
- ۳- چنگیزخان چگونه مردی بود؟
- ۴- چرا چنگیزخان به ایران حمله کرد؟ توضیح دهید.
- ۵- هلاکو خان چگونه حکومت عباسیان را برانداخت؟
- ۶- تیمور که بود و چه کرد؟
- ۷- هلاکو پس از فتح ایران چه کرد؟
- ۸- در پی حمله ی تیمور و سپاهیانش به ایران، چه اتفاقی افتاد؟
- ۹- حمله ی مغول ها به ایران چه تأثیری بر زندگی مردم داشت؟
- ۱۰- حمله ی چنگیز و تیمور چه نتایجی برای ایران داشت؟ توضیح دهید.

درس بیست و دوم

پاسخ درست را علامت بزینید.

۱- وزیر دانشمند ایرانی در زمان ایلخانان چه کسی بود؟

۱- خواجه نظام الملک توسی

۲- خواجه رشیدالدین فضل الله همدانی

۳- خواجه نصیرالدین توسی

۴- عضدالدوله

۲- خواجه نصیرالدین توسی مشاور چه کسی بود؟

۱- تیمورخان

۲- چنگیزخان

۳- هلاکوخان

۴- غایرخان

۳- رصدخانه ی مراغه به همت چه کسی ساخته شد؟

۱- ابوعلی سینا

۲- خواجه نظام الملک توسی

۳- خواجه نصیرالدین توسی

۴- عضدالدوله

۴- شاهرخ پسر کدام فرمانده ی مغول بود؟

۱- چنگیز

۲- هلاکو

۳- غایر

۴- تیمور

۵- مسجد گوهرشاد به همت چه کسی و در کجا ساخته شد؟

۱- گوهرشاد - مشهد

۲- شاهرخ - مشهد

۳- شاهرخ - اصفهان

۴- گوهرشاد - مراغه

۶- آرامگاه کدام شاعر ایرانی در شهر نیشابور است؟

۱- سعدی

۲- حافظ

۳- عطار

۴- مولوی

جاهای خالی را با کلمات مناسب کامل کنید.

- ۱- جانشینان چنگیز، هلاکو و تیمور پس از آشنایی با مردم ایران، تحت تأثیر و ایرانیان قرار گرفت و به تدریج به روی آوردند.
- ۲- خواجه رشیدالدین فضل الله همدانی از وزیران دانشمند دوره ی بود.
- ۳- از مشاوران هلاکو بود که سعی می کرد عادت های زشت را تغییر دهد.
- ۴- شاهرخ، پسر تیمور، برخلاف پدر خود مردی بود.
- ۵- کاروان سرای در نزدیکی سرخس در استان خراسان رضوی از آثار دوره ی چنگیز، هلاکو و تیمور است.

عبارت های درست و نادرست را مشخص کنید.

- ۱- وزیران ایرانی سعی می کردند راه و رسم کشورداری را به مغولان بیاموزند.
- ۲- خواجه نصیرالدین توسی از وزیران دانشمندان دوره ی ایلخانان بود که چندین کتاب علمی نوشت.
- ۳- شاهرخ دستور داد مدارس و کتاب خانه های متعددی بسازند.

۴- تعدادی از شاعران بزرگ و برجسته ی ایرانی مانند حافظ و سعدی در دوره های مغول و تیموری زندگی می کردند.

به سوالات زیر با دقت و کامل پاسخ دهید.

- ۱- ایرانیان چه تأثیراتی بر جانشینان چنگیز، هلاکو و تیمور گذاشتند؟ توضیح دهید.
- ۲- وزیران ایرانی با مغولان چگونه رفتار می کردند؟
- ۳- خواجه رشیدالدین فضل الله همدانی که بود و چه کرد؟
- ۴- در زمان جانشینان چنگیز، هلاکو و تیمور مردم ایران چه کردند؟
- ۵- چند نمونه از شاعران بزرگ ایرانی در دوره های مغول و تیموری را نام ببرید. (چهار مورد)
- ۶- رویدادهای زیر را به ترتیب روی خط زمان نام گذاری کنید.

به قدرت رسیدن تیمور در ماوراءالنهر - مرگ چنگیزخان - لشکرکشی هلاکو خان -
شروع حمله های تیمور به ایران - حمله ی چنگیز به ایران

